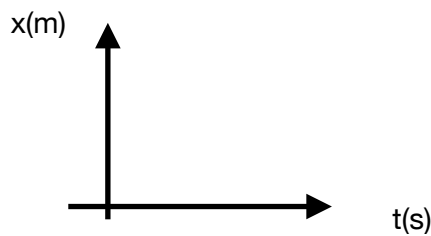


## Actividad física

A partir de los datos mostrados en las siguientes tablas realiza una grafica como se te indica.


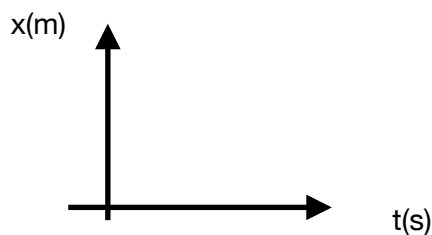
<b>Tiempo (s)</b>	0	1	2	3	4
<b>Posición (m)</b>	0	1	4	9	16
<b>Velocidad (m/s)</b>	0				

Completa la tabla y calcula la velocidad, las graficas realizadas en papel milimétrico



Con los siguientes datos gráfica los siguientes datos

Tiempo (s)	Posición (m)	Velocidad (m/s)
0	0	0
1	1	2
2	4	4
3	9	6
4	16	8



1.- Analiza y explica qué clase de movimiento corresponde cada una y describe el comportamiento concreto del móvil en cada caso.